

(2021)

1

1 Найдите значение выражения

$$\frac{0,9 + 0,7}{3,2}$$

Ответ: _____.

2 Найдите значение выражения

$$\frac{1,6 \cdot 10^2}{4 \cdot 10^{-2}}$$

Ответ: _____.

3 Банк начисляет на срочный вклад 11% годовых. Вкладчик положил на счёт 4000 рублей. Сколько рублей будет на этом счёте через год, если никаких операций, кроме начисления процентов, со счётом проводиться не будет?

Ответ: _____.

4 Перевести температуру из шкалы Фаренгейта в шкалу Цельсия позволяет формула $t_C = \frac{5}{9}(t_F - 32)$, где t_C – температура в градусах по шкале Цельсия, t_F – температура в градусах по шкале Фаренгейта. Скольким градусам по шкале Цельсия соответствует 50 градусов по шкале Фаренгейта?

Ответ: _____.

5 Найдите значение выражения

$$\log_2 6,4 + \log_2 5.$$

Ответ: _____.

6 Бегун пробежал 350 метров за 36 секунд. Найдите среднюю скорость бегуна на дистанции. Ответ дайте в километрах в час.

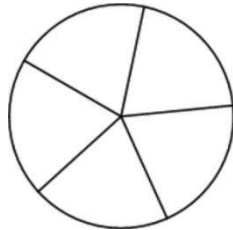
Ответ: _____.

7 Найдите корень уравнения

$$5x - 2 = 10x + 4.$$

Ответ: _____.

8 Колесо имеет 5 спиц. Углы между соседними спицами равны. Найдите величину угла (в градусах), который образуют две соседние спицы.



Ответ: _____.

9 Установите соответствие между величинами и их возможными значениями: к каждому элементу первого столбца подберите соответствующий элемент из второго столбца.

ВЕЛИЧИНЫ

- А) объём воды в Азовском море
- Б) объём ящика с инструментами
- В) объём грузового отсека транспортного самолёта
- Г) объём бутылки растительного масла

ЗНАЧЕНИЯ

- 1) 150 м³
- 2) 1 л
- 3) 36 л
- 4) 256 км³

В таблице под каждой буквой, соответствующей величине, укажите номер её возможного значения.

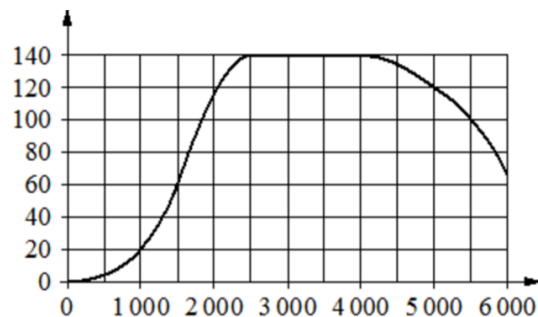
Ответ:

А	Б	В	Г

10 На тарелке лежат одинаковые на вид пирожки: 5 с мясом, 8 с капустой и 3 с вишней. Петя наугад выбирает один пирожок. Найдите вероятность того, что он окажется с капустой.

Ответ: _____.

- 11 На графике показана зависимость крутящего момента автомобильного двигателя от числа оборотов в минуту. На горизонтальной оси отмечено число оборотов в минуту, на вертикальной оси – крутящий момент в $\text{Н} \cdot \text{м}$. Чтобы автомобиль начал движение, крутящий момент должен быть не менее $20 \text{ Н} \cdot \text{м}$.



Определите по графику, какого наименьшего числа оборотов двигателя в минуту достаточно, чтобы автомобиль начал движение.

Ответ: _____.

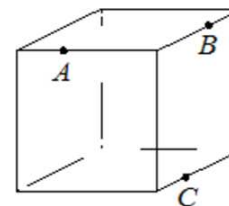
- 12 Строительный подрядчик планирует купить 20 тонн облицовочного кирпича у одного из трёх поставщиков. Один кирпич весит 5 кг. Цена кирпича и условия доставки всей покупки приведены в таблице.

Поставщик	Цена кирпича (руб. за шт.)	Стоимость доставки (руб.)	Специальные условия
А	49	8000	Нет
Б	55	7000	Доставка бесплатно, если сумма заказа превышает 200 000 руб.
В	62	6000	Доставка со скидкой 50%, если сумма заказа превышает 240 000 руб.

Во сколько рублей обойдётся наиболее дешёвый вариант покупки с доставкой?

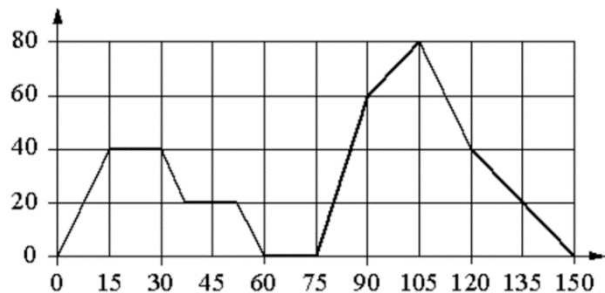
Ответ: _____.

- 13 Плоскость, проходящая через точки A , B и C (см. рис.), разбивает куб на два многогранника. Сколько граней у получившегося многогранника с большим числом рёбер?



Ответ: _____.

- 14 На графике изображена зависимость скорости движения легкового автомобиля от времени. На вертикальной оси отмечена скорость легкового автомобиля в км/ч, на горизонтальной – время в секундах, прошедшее с начала движения автомобиля.



Пользуясь графиком, поставьте в соответствие каждому интервалу времени характеристику движения автомобиля на этом интервале.

ИНТЕРВАЛЫ ВРЕМЕНИ

А) 0-30 с

Б) 30-60 с

В) 60-90 с

Г) 90-120 с

ХАРАКТЕРИСТИКИ

1) скорость автомобиля достигла максимума за всё время движения автомобиля

2) скорость автомобиля не уменьшалась и не превышала 40 км/ч

3) автомобиль сделал остановку на 15 секунд

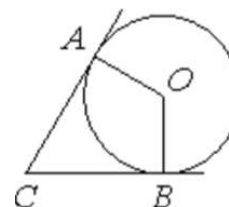
4) скорость автомобиля не увеличивалась на всём интервале

В таблице под каждой буквой укажите соответствующий номер.

Ответ:

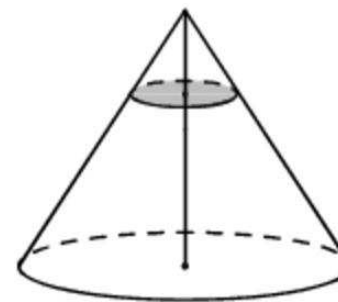
А	Б	В	Г

- 15 В угол C , равный 79° , вписана окружность с центром O , которая касается сторон угла в точках A и B . Найдите угол AOB . Ответ дайте в градусах.



Ответ: _____.

- 16 Через точку, делящую высоту конуса в отношении 1:4, считая от вершины, проведена плоскость, параллельная основанию. Найдите объём этого конуса, если объём конуса, отсекаемого от данного конуса проведённой плоскостью, равен 8.



Ответ: _____.

- 17 Каждому из четырёх неравенств в левом столбце соответствует одно из решений в правом столбце. Установите соответствие между неравенствами и их решениями.

НЕРАВЕНСТВА

- А) $2^x \geq 2$
Б) $0,5^x \geq 2$
В) $0,5^x \leq 2$
Г) $2^x \leq 2$

РЕШЕНИЯ

- 1) $x \geq 1$
2) $x \leq 1$
3) $x \leq -1$
4) $x \geq -1$

Впишите в приведённую в ответе таблицу под каждой буквой соответствующий номер решения.

Ответ:

А	Б	В	Г

- 18 Среди дачников в посёлке есть те, кто выращивает виноград, и есть те, кто выращивает груши. А также есть те, кто не выращивает ни виноград, ни груши. Некоторые дачники в этом посёлке, выращивающие виноград, также выращивают и груши. Выберите утверждения, которые верны при указанных условиях.

- 1) Если дачник из этого посёлка не выращивает виноград, то он выращивает груши.
- 2) Среди тех, кто выращивает виноград, есть дачники из этого посёлка.
- 3) Есть хотя бы один дачник в этом посёлке, который выращивает и груши, и виноград.
- 4) Если дачник в этом посёлке выращивает виноград, то он не выращивает груши.

В ответе запишите номера выбранных утверждений без пробелов, запятых и других дополнительных символов.

Ответ: _____.

- 19 Найдите четырёхзначное число, кратное 33, все цифры которого различны и нечётны. В ответе укажите какое-нибудь одно такое число.

Ответ: _____.

- 20 Если бы каждый из двух множителей увеличили на 1, из произведение увеличилось бы на 8. На сколько увеличится произведение этих множителей, если каждый из них увеличить на 3?

Ответ: _____.